





















# Esercizi

- Indicare il nome delle seguenti figure ritmiche.

	_____		_____
	_____		_____
	_____		_____
	_____		_____
	_____		_____
	_____		_____
	_____		_____
	_____		_____
	_____		_____

- Scrivere invece ora il valore frazionario della figure ritmiche.

	_____		_____
	_____		_____
	_____		_____
	_____		_____
	_____		_____
	_____		_____
	_____		_____
	_____		_____
	_____		_____
	_____		_____